




Albanian-American
Development Foundation



KONKURSI I PRANIMIT

NË

FAKULTETIN E ARKITEKTURËS DHE URBANISTIKËS

Vitin akademik 2022 – 2023

VARIANTI 0

16 Shtator 2022

Kodi i Sekretimit:

1) Cila nga stilet artistike nuk i përket modernizmit:

- A) Gotiku B) Simbolizmi
C) Abstraksionizmi D) Kubizmi

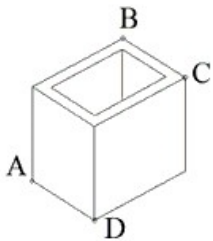
2) Cili prej kombinimeve vepër- autor është i saktë?


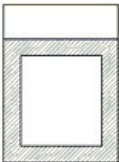


- A) I huaji - Franz Kafka
B) Prilli i thyer - Ismail Kadare
C) Asgjë e re nga fronti i perëndimit - Ernest Hemingway
D) Evgjëni Grande - Gustav Flaubert

3) Cili nga numrat e mëposhtëm korrespondojnë me brinjët e një trekëndëshi?

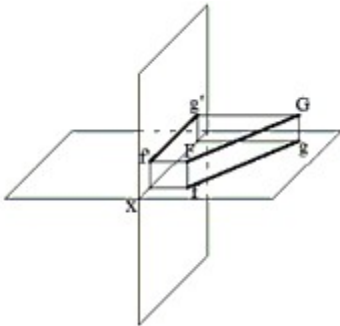
- A) 11, 12, 16 B) 2, 3, 6 C) 3, 4, 7 D) 4, 6, 11

4) Përcaktoni alternativën e saktë të figurës së ndërprerjes, të trupit me planin, që kalon nga pikat A, B, C, D.



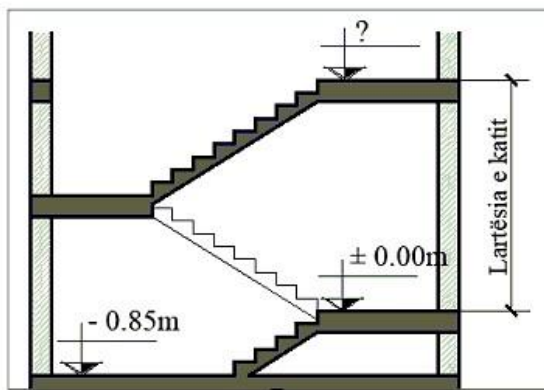
- A)  B) 
- C)  D) 

5) Cila nga alternativat është paraqitja me projeksione, për segmentin e dhënë në aksonometri ?



- A) B)
- C) D)

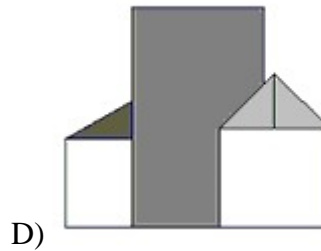
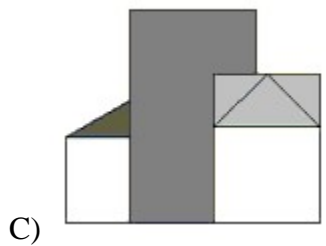
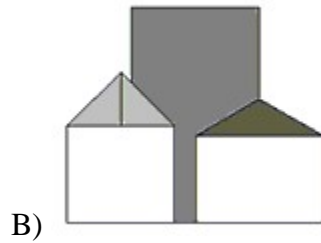
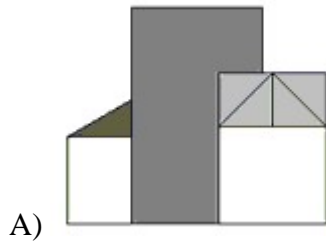
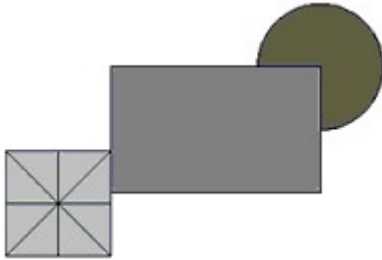
6) Sa është lartësia e katit në prerjen e dhënë ?



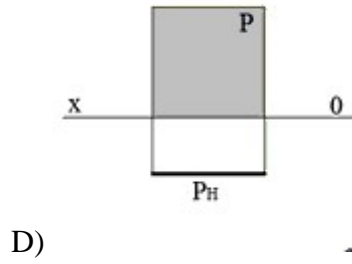
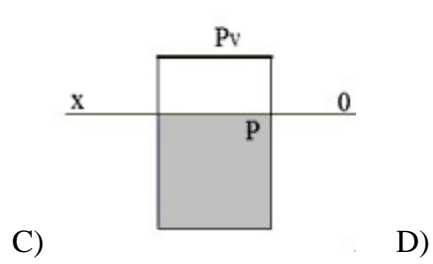
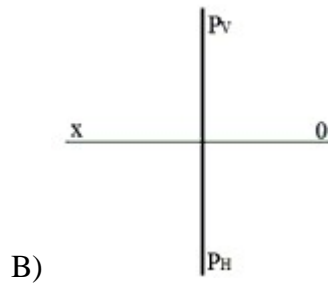
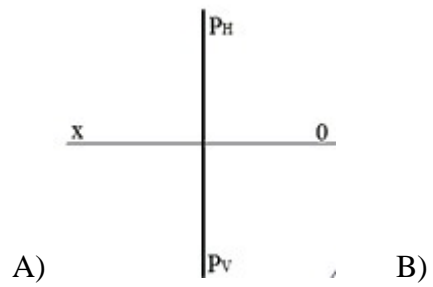
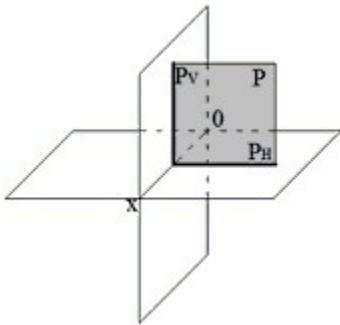
- A) +3.24 m B) -3.06 m C) +4.93 m D) +3.06 m

7) Është dhënë projeksioni në horizontal H i një grup objektsh.

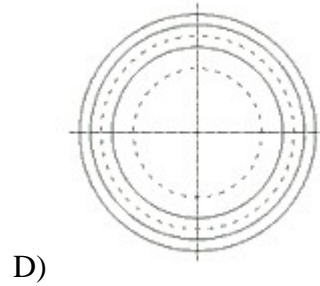
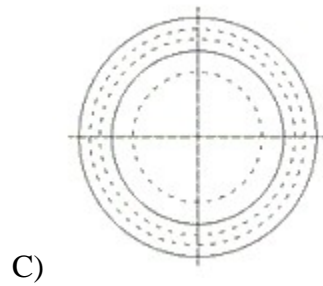
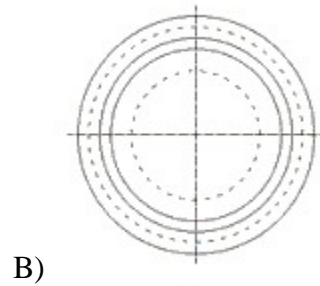
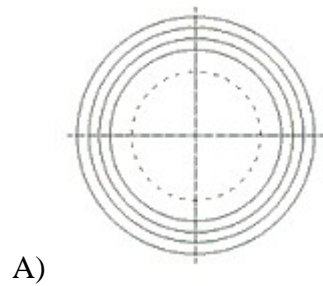
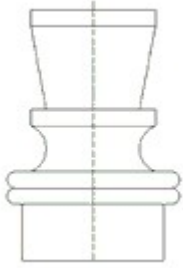
Zgjidhni alternativën e saktë të projeksionit në anësor W të tyre.



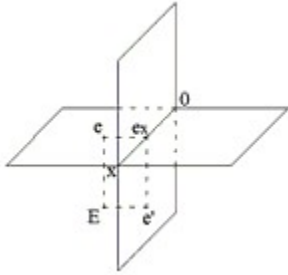
8) Cila nga alternativat është paraqitja me projeksione, për figurën gjeometrike të dhënë në aksonometri ?

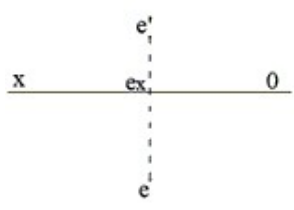
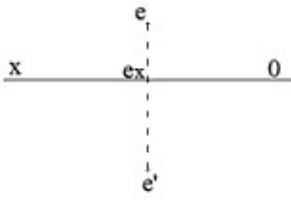
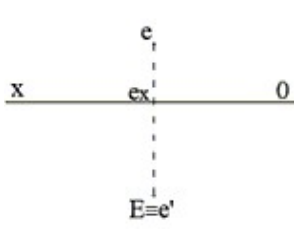
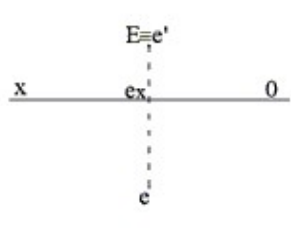


9) Cila nga alternativat është projekcioni në horizontal H i objektit të dhënë ?

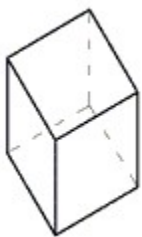


10) Cila nga alternativat është paraqitja me projeksione për pikën e dhënë në aksonometri ?



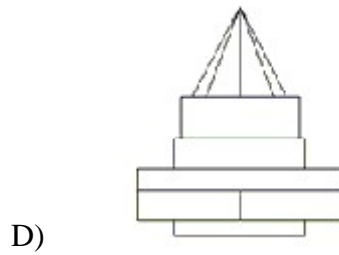
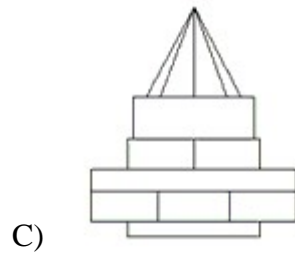
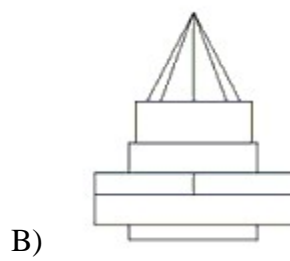
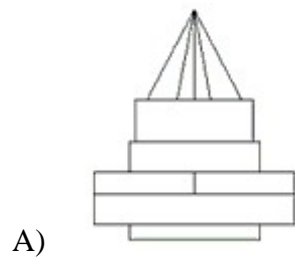
- A) 
- B) 
- C) 
- D) 

11) Në figurë është dhënë kubi i paraqitur në :

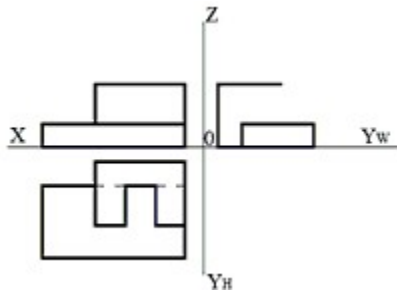


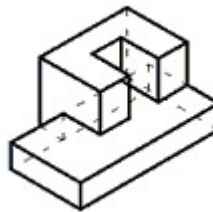
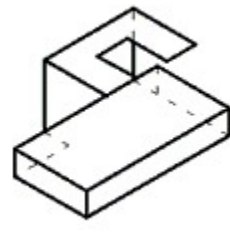
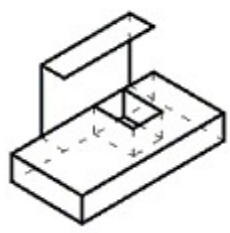
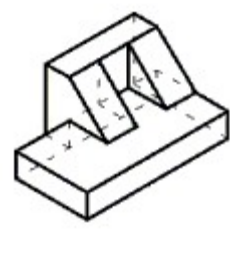
- A) Izometri horizontale. B) Izometri kalorsiake.
- C) Izometri këndrejtë. D) Dimetri horizontale.

12) Cila nga alternativat është projektioni në ballor V i objektit të dhënë në projektionin horizontal ?



13) Cili nga katër objektet në aksonometri korespondon me paraqitjen me tre projeksione në ortogonal ?

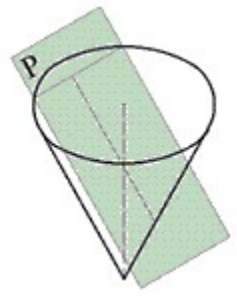


- A)  B) 
- C)  D) 

14) Në shkallën 1:8, në cilën përmasë do vizatohej segmenti 50 cm?

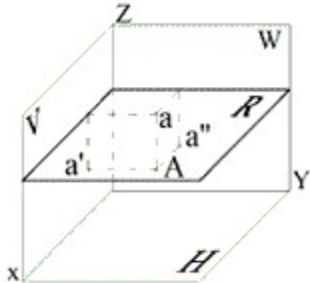
- A) 6.25 cm B) 0.16 cm C) 16 cm D) 6.25 mm

15) Koni i prerë me planin P, krijon figurën gjeometrike :



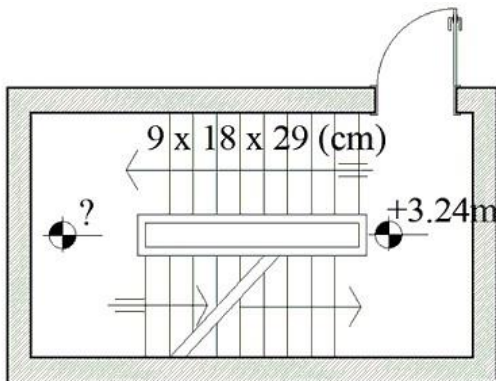
- A) hiperbolë. B) rreth. C) elips. D) parabol.

16) Pika A e dhënë në aksonometri, ndodhet në :



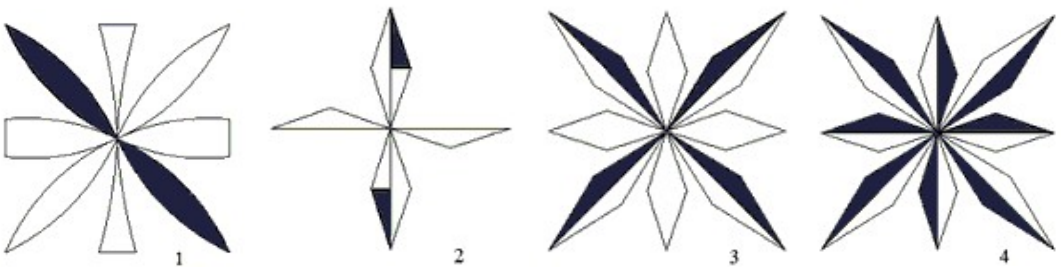
- A) planin W. B) në hapësirë. C) planin V. D) planin R.

17) Sa është kuota horizontale në sheshpushim, në panimetrinë e dhënë të shkallëve ?



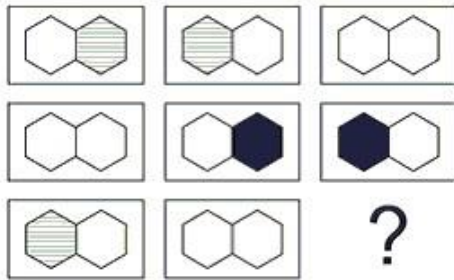
- A) -1.62 m B) +4.86 m C) +5.85 m D) +2.61 m





18) Cila nga figurat e prezantuara ka një ose më shumë akse simetrie?




- A) 1 B) 4
C) 3 D) 2





19) Cila figurë kompletton serinë:



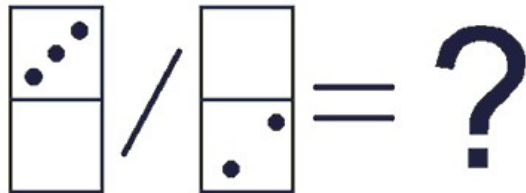
- A)  B) 
- C)  D) 

20) Cila figurë kompletton serinë?



- A)  B) 
- C)  D) 

21) Cili nga gurët e dominosë zgjidh ekuacionin?



- A) B)
- C) D)

22) Nëse 2 (dy) burra mund të hapin 1 (një) gropë themeli në 5 (pesë) ditë, sa burra duhen për të hapur 12 (dymbëdhjetë) gropa themelesh në 3 (tre) ditë?

- A) 25 B) 40 C) 36 D) 21

23) Llogarsini sipërfaqen e një rombi që ka diagonalen e madhe 18 cm dhe diagonalen e vogël 4 cm.

- A) 72 cm² B) 36 dm² C) 48 cm² D) 36 cm²

24) Një djali i dhuruan 1024 Euro. Çdo ditë harxhonte gjysmën e asaj që kishte. Mbas sa ditësh djali do të ngelet pa as edhe një Euro?

- A) 4 B) 12 C) 7 D) 9

25) Liria ka jetuar në fshat për 2/5 e jetës së saj. Duke ditur që ka jetuar 24 vite në fshat, sa vite ka jetuar në qytet?

- A) 28 vite B) 44 vite C) 36 vite D) 40 vite

26) Plotësoni numrin që mungon:

4 5 3
8 7 7

6 6 ?

A) 10 B) 6 C) 3 D) 5

27) Një kub është i përbërë nga 64 kubikë të vegjël të bardhë të barabartë me njëri tjetrin. Nëse lyejmë me ngjyrë kubikët e vegjël në brinjët e kubit , sa kubikë të vegjël ngelen të bardhë?

A) 32 B) 58 C) 40 D) 36

28) Gjeni numrin që mungon në vargun 4, 16, 8, 64, 32, 1024, ...

A) 2048 B) 262144 C) 4096 D) 512

29) Një bukëpjetës përgatit 40 bukë në 2 orë. Sa bukëpjekës (që punojnë me të njëjtin ritëm) duhen për të përgatitur 100 bukë për gjysëm ore?

A) 5 B) 2.5 C) 10 D) 20

30) Dy trenat takohen duke ecur në drejtime të kundërta me shpejtësi përkatëse 70 km/h dhe 90 km/h. Mbas 45 minutash të dy trenat do të jenë të distancuar nga njëri tjetri rreth:

A) 120 km B) 20 km C) 100 km D) 30 km

31) Nëse:

$$@ = 2 + \#$$

$$\# + \& + \% + \# = 5$$

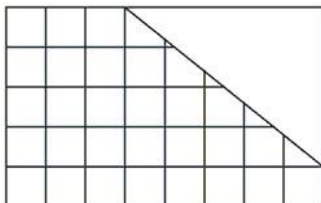
$$\& + 1 = \%$$

$$\# + \& = @$$

Atëherë @ është e barabartë me:

A) 6 B) 5 C) 2 D) 3

32) Nga figura më poshtë në formë drejtkëndëshi hiqet pjesa e pakuadruar. Cila është përqindja e sipërfaqes së mbetur?



A) 70 % B) 60 % C) 75 % D) 80 %

33) Më i gjati në Evropë është lumi:

- A) Rin B) Vollga C) Po D) Danub

34) Cilët prej vëllezërve të mëposhtëm janë autorët e përrallave klasike?

- A) Vëllezërit Cervi B) Vëllezërit Grim
C) Vëllezërit Lumiere D) Vëllezërit Karamazov

35) Cili prej autorëve është përfaqësues i Romantizmit shqiptar?

- A) Petro Marko B) Jeronim de Rada
C) Migjeni D) Pjetër Bogdani

36) “Mëmëdhe quhetë toka/ ku më ka rënurë koka,/ ku kam dashur mëm’e atë,/ ku më njeh dhe gur’ i thatë..” Cili është autori i këtyre vargjeve?

- A) Asdreni B) Naim Frashëri
C) Vaso Pasha D) Andon Zako Çajupi

37) Cili është filmi i parë shqiptar me metrazh të gjatë?

- A) Skënderbeu B) Debatik C) Tana D) Kapedani

38) Triada "tezë-antitezë-sintezë" përdoret për të përshkruar mendimin e filozofit idealist:

- A) Saint-Simon B) John Mill C) Kierkegard D) Hegel

39) Cili ishte organizimi i parë që i parapriu Bashkimit Evropian të sotëm?

- A) Europa Nostra
B) Tregu i Përbashkët Evropian
C) Bashkimi Ekonomik i Evropës Perëndimore
D) Komuniteti Evropian i Karbonit dhe Çelikut

40) Cili nga patriotët e mëposhtëm udhëhoqi Lidhjen e Prizrenit:

- A) Isa Boletini B) Mehdi Frashëri
C) Abdyl Frashëri D) Mit'hat Frashëri

41) Universiteti i parë në Shqipëri u krijua në vitin:

- A) 1898 B) 1928 C) 1957 D) 1944

42) Nga shtetet që u rradhiten me Boshtin Nazist gjatë Luftës së dytë Botërore, i fundit kapitulloi:

- A) Japonia B) Gjermania C) Austria D) Italia

43) Zgjedhjet e para parlamentare në Shqipëri u mbajtën në vitin:

- A) 1991 B) 1921 C) 1912 D) 1922

44) Parimi i dobisë qëndron në bazë të drejtimit filozofik të:

- A) Utilitarizmit B) Stoicizmit C) Iluminizmit D) Skepticizmit

45) Cili ishte kryeqyteti i ish-Gjermanisë Perëndimore:

- A) Mynih B) Bon C) Frankfurt D) Berlin

46) Rajoni i Evropës Juglindore ose Gadishulli i Ballkanit përbëhet nga:

- A) 10 shtete B) 9 shtete C) 14 shtete D) 12 shtete

47) Vendosni në rend kronologjik ngjarjet e mëposhtme:

1. Kuvendi i Lezhës

2. Kongresi i Berlinit

3. Beteja e Stalingradit

4. Traktati i Gaetës

- A) 1243 B) 1432 C) 4132 D) 1423

48) Gjeni alternativën e gabuar në pohimet e mëposhtme:

A) Mbreti i Mbretërisë së Italisë u shpall Viktor Emanueli II.

B) Kavur synoi bashkimin e shteteve dhe principatave rreth Mbretërisë së Sardenjës.

C) Garibaldi u quajti "heroi i dy botëve".

D) Për realizimin e bashkimit të Italisë, në mesin e shek. XIX, u lidh aleancë me Austrinë.

49) Autoportreti në figurë është i realizuar nga:



- A) Francisko Goja B) Rembrand Van Rijn
C) Piter Pol Rubens D) Diego Velaskes

50) Vendimi për krijimin e Organizatës së Kombeve të Bashkuara u mor në:

- A) Konferencën Jaltës B) Konferencën e Parisit
C) Konferencën e Otavës D) Konferencën e Potsdamit

51) Besimi fetar u ndalua me ligj në Shqipëri në vitin:

- A) 1946 B) 1967 C) 1976 D) 1954

52) Deklarata e Pavarësisë së ShBA-së u hartua në pjesën me të madhe nga:

- A) Uashington B) Xheferson C) Hamilton D) Linkoln

53) Në cilin vit u ndërtua Muri i Berlinit, që ndante qytetin e Berlinit në lindje dhe perëndim:

- A) 1951 B) 1948 C) 1957 D) 1961

54) Gjени personazhin që nuk i përket kategorisë:

- A) Mikelanxhelo B) Ticiano C) Botiçeli D) Petrarka

55) Cila Principatë hodhi themelet e shtetit unitar mesjetar:

- A) e Muzakajve B) e Balshajve C) e Dukagjinit D) e Topiajve

56) Pikëpamjet e Martin Luterit çuan në lindjen e:

- A) Judaizmit B) Hinduizmit
C) Katolicizmit D) Protestantizmit

57) Gjeni personazhin që i përket lëvizjes politike e kulturore iluministe:

- A) Bodler B) Makiaveli C) Loku D) Prust

58) Në vitin 1961, Shqipëria i ndërpreu marrëdhëniet diplomatike me:

- A) SHBA B) Jugosllavinë
C) Kinën D) Bashkimin Sovjetik

59) Revolucioni i parë francez është zhvilluar në Francë në vitet:

- A) 1830-1832 B) 1758-1763 C) 1789-1799 D) 1802-1809

60) Gjeni qytetin që nuk i përket kategorisë:

- A) Izmir B) Mileto C) Efes D) Zara

Varianti 0

- 1) A
- 2) B
- 3) A
- 4) C
- 5) C
- 6) B
- 7) C
- 8) B
- 9) C
- 10) B
- 11) B
- 12) B
- 13) B
- 14) A
- 15) D
- 16) B
- 17) B
- 18) C
- 19) B
- 20) B
- 21) B
- 22) B
- 23) D
- 24) B
- 25) C
- 26) D
- 27) A
- 28) D
- 29) C
- 30) A
- 31) C
- 32) C
- 33) B
- 34) B
- 35) B
- 36) D
- 37) C
- 38) D
- 39) D
- 40) C
- 41) C
- 42) A
- 43) B
- 44) A

- 45) B
- 46) D
- 47) D
- 48) D
- 49) B
- 50) A
- 51) C
- 52) B
- 53) D
- 54) D
- 55) B
- 56) D
- 57) C
- 58) D
- 59) C
- 60) D